

மாணவர் பெயர் : _____

வகுப்பு : 2

நேரம் : 1.30 மணி

தமிழ்

மதிப்பெண்கள் : 30

I. கீழ்க்கண்ட எழுத்துக்களை கொண்டு 3 சொற்களை உருவாக்குக

3

க்	ங்	ச்	ஞ்	ட்	ண்	த்	ந்	ப்	ம்	ய்	ர்	ல்	வ்	ழ்	ள்	ற்	ன்
க	ங	ச	ஞ	ட	ண	த	ந	ப	ம	ய	ர	ல	வ	ழ	ள	ற	ன

II. படத்திற்குரிய முதல் எழுத்தை எழுதுக

4




___ ப்பளம்



___ லமரம்



___ சல்



___ ஞ்சல்

III. பொருத்துக

4

1. பறவை - காட்டின் இருட்டு
2. கரடி - கற்றுக் கொள்ளுதல்
3. மீன் - வானத்தின் தொலைவு
4. குழந்தைகள் - கடலின் ஆழம்

IV. முதல் எழுத்தை மாற்றி புதிய வார்த்தைகள் எழுதுக

3

1. வால் -,
2. படை -,
3. கல் -, -

V. கட்டங்களுக்கு ஏற்ற சொல்லை எடுத்து எழுதுக

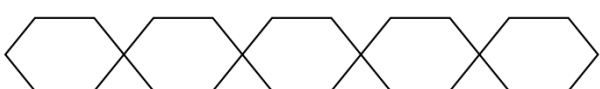
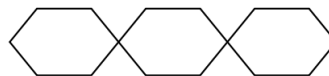
3

ஆமை பந்து உரல்

நண்டு இறகு குதிரை

கொக்கு ஈட்டி மேசை

ஊஞ்சல் ஆலமரம் யானை



VI. குறிப்பிற்கேற்ற சொல்லை எடுத்து எழுதுக

1

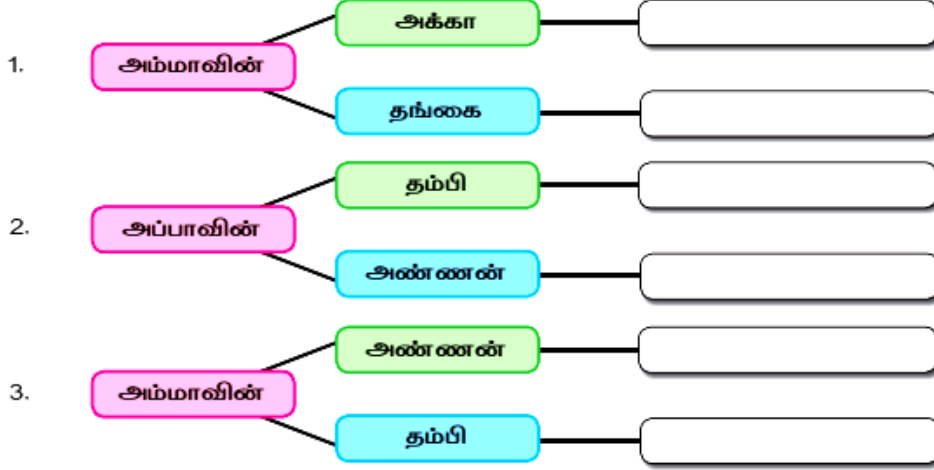
(ஆடு, ஆமை, குதிரை)

⇒ நான்கு கால்கள் இருக்கும்

⇒ வேகமாய் ஓடும்

VII. உறவு முறையை அறிந்து எழுதுக

6



VIII. உரிய பன்மைச் சொல்லை எழுதுக

3

1. மிட்டாய்

2. சட்டை

3. புறா

IX. பொருத்தமான குறியீடுக சரி ✓ தவறு ✗

3

1. நீண்ட தும்பிக்கை உடையது யானை

2. ஒட்டகச் சிவிங்கியின் முதுகில் திமில் இருக்கும்

3. வரிக்குதிரைக்கு கொம்புகள் இருக்கும்.

STUDENT'S NAME : _____

CLASS : 2



TIME : 1.30 Hrs

ENGLISH

Marks : 30

I. Write the first letter for the picture

4



II. Match the picture with the word.

5



kite

cat

rat

pen

dog

III. Find and Write the name of the picture

4

(clock, duck, bucket, lion)



IV. Choose the Correct Answer

3

1. I put my _____ in the bag. (pencil box / fan)

2. I put my _____ in the bag. (book / chair)

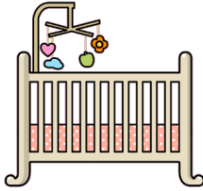
3. I put my _____ in the bag. (table / eraser)

V. Complete the following with 'Yes, it is. / No, it is not.

2



Is it a chair?



Is it a clock?

VI. Find the odd one

3

bat	ant	bag	ball	_____
cap	car	cup	toy	_____
doll	door	cat	duster	_____

VII. Match the parts of the body and say them aloud.

7



head

mouth

hand

legs

hair

eye

nose

ear

VIII. Fill in the blanks.

2

I can smell with my _____.

I can see with my _____.

மாணவர் பெயர் : _____

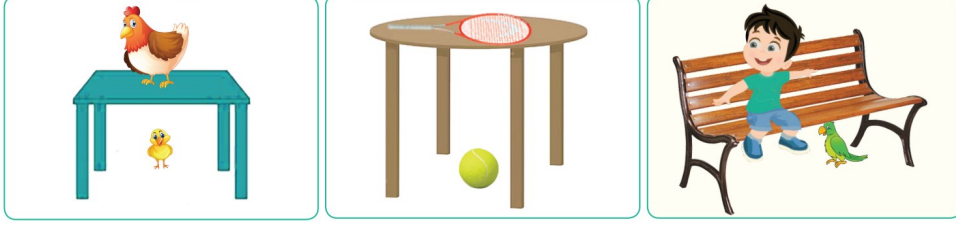
வகுப்பு : 2

நேரம் : 1.30 மணி

கணக்கு

மதிப்பெண்கள் : 30

I. மேல் உள்ளவற்றை (✓) செய்க , கீழே உள்ளவற்றை வட்டமிடுக 3




II. சாய்வுக் கோடுகள் வரையப்பட்ட பக்கத்தின் சரியான வடிவத்திற்கு வண்ணம் தீட்டி அதன் பெயரை எழுதுக

	<input type="checkbox"/>	<input type="checkbox"/>	<input type="checkbox"/>	<input type="checkbox"/>	
	<input type="checkbox"/>	<input type="checkbox"/>	<input type="checkbox"/>	<input type="checkbox"/>	
	<input type="checkbox"/>	<input type="checkbox"/>	<input type="checkbox"/>	<input type="checkbox"/>	

III. மணிகளை எண்ணி எழுதுக 3



IV. எண் பெயர் எழுதுக 3



V. எண்ணி எழுதுக 3



VI. முன்னி, தொடரி மற்றும் இடைப்பட்ட எண்களை எழுதுக

3

45		47
----	--	----

75	76	
----	----	--

	80	81
--	----	----

VII. எண் வரிசையை நிறைவு செய்க

2

89								96		
----	--	--	--	--	--	--	--	----	--	--

VIII. 9 பத்துகள் + 0 ஒன்றுகள் கொண்ட எண்ணின் முன்னி தொடரியை எழுது 2

முன்னி

தொடரி

IX. கூட்டுக

4

$$\begin{array}{r} 38 \\ 61 + \\ \hline \\ \hline \end{array}$$

$$\begin{array}{r} 53 \\ 42 + \\ \hline \\ \hline \end{array}$$

X. கூட்டுக

4

ஒரு பள்ளிப் பேருந்தில் 33 சிறுவர்களும், 26 சிறுமிகளும் பயணம் செய்கின்றனர் எனில் அப்பேருந்தில் பயணம் செய்யும் மொத்த மாணாக்கர் மொத்தம் எத்தனை பேர் ?
