

வகுப்பு : 1

கணக்கு

மதிப்பெண்கள் : 60

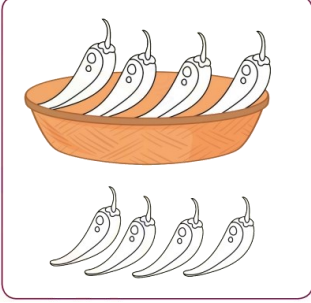
தேர்வு எண் :

நேரம் : 1.30 மணி


மாணவர் பெயர் :

I. வண்ணம் தீட்டி விடையளிக்க

4X1=4




கூடைக்குள் உள்ளே  
உள்ளவற்றிற்கு  
வண்ணம் தீட்டு



மரத்திலிருந்து தொலைவில் உள்ள  
விலங்கிற்கு வண்ணம் தீட்டு



உருவத்தில் பெரியதாக  
உள்ளவற்றிற்கு வண்ணம் தீட்டு



உருவத்தில் சிறியதாக உள்ளவற்றிற்கு  
வண்ணம் தீட்டு


II. இரு பரிமாண வடிவத்துடன் பொருத்துக.

4



III. படங்களை எண்ணி உரிய எண்களுடன் பொருத்துக

10X1=10



2



4



5



3




1



IV. எண்ணி எழுதுக

7X1=7















V. விடுபட்ட எண்களை நிரப்புக

5X1=5

1		3	4			7			10
---	--	---	---	--	--	---	--	--	----

VI. பெரிய எண்ணை வட்டமிடுக

5X1=5

5 , 6	3 , 1	7 , 9
2 , 5	4 , 7	9 , 6

VII. சிறிய எண்ணை வட்டமிடுக

5X1=5

1 , 2	3 , 5	4 , 6
4 , 8	6 , 2	5 , 7

VIII. எண்ணி எழுதி கூட்டுக

5X1=5



+

=



+

=



+

=



+

=



+

=

IX. கூட்டுக

5X1=5

$$\begin{array}{r} 8 \\ + 1 \\ \hline \\ \hline \end{array}$$

$$\begin{array}{r} 3 \\ + 5 \\ \hline \\ \hline \end{array}$$

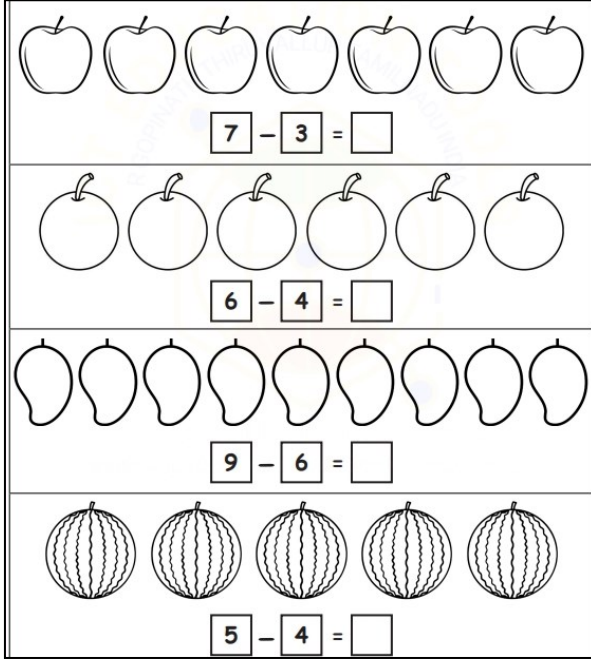
$$\begin{array}{r} 4 \\ + 2 \\ \hline \\ \hline \end{array}$$

$$\begin{array}{r} 2 \\ + 7 \\ \hline \\ \hline \end{array}$$

$$\begin{array}{r} 6 \\ + 3 \\ \hline \\ \hline \end{array}$$

X. கழிக்க

4X1=4



X. கழிக்க

3X1=3

$$\begin{array}{r} 8 \\ - 3 \\ \hline \\ \hline \end{array}$$

$$\begin{array}{r} 7 \\ - 4 \\ \hline \\ \hline \end{array}$$

$$\begin{array}{r} 5 \\ - 2 \\ \hline \\ \hline \end{array}$$

XI. எண்களை இணைத்து படத்தை முழுமையாக்கி வண்ணம் தீட்டுக

3X1=3

